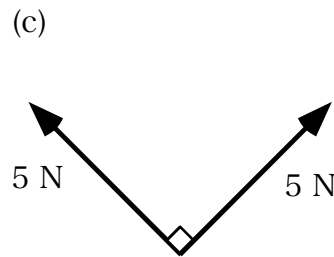
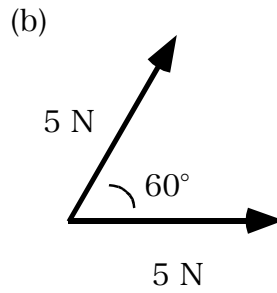
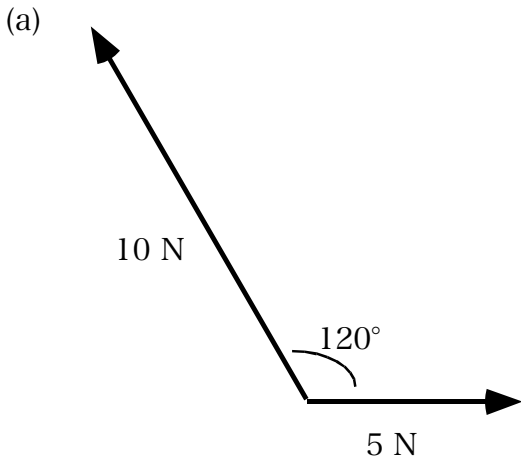
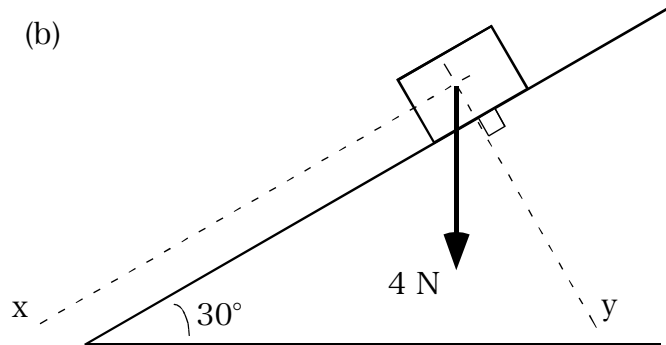
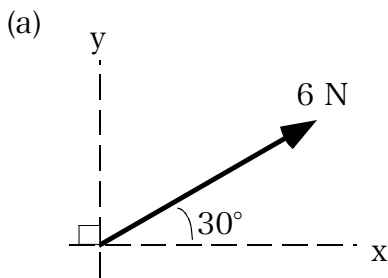


物理1年演習問題 力のベクトルの計算

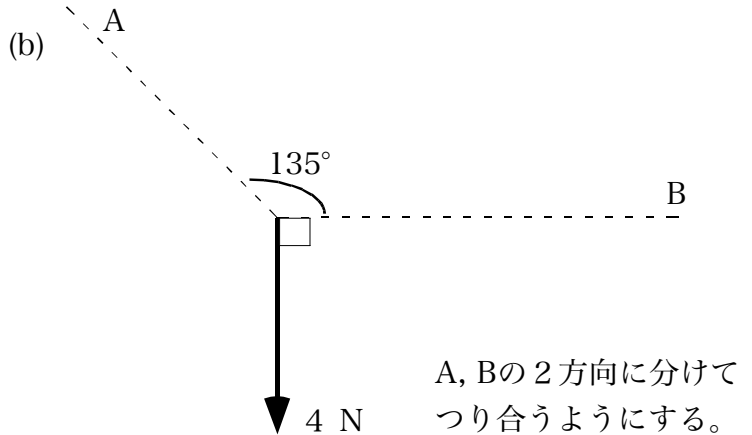
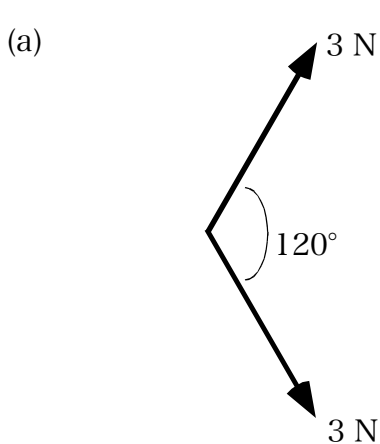
(1) 力の合成：下図 (a), (b), (c) の2つの力の合力を図示し、その大きさを求めよ。



(2) 力の分解：(a), (b) の力を x, y の2方向に分解し、各分力の大きさを求めよ。



(3) 力のつりあい：(a), (b) の力とつりあう力を図示し、その力の大きさを求めよ。



* プログラム物理上1章1～41をやっておくこと

学科 番 氏名